

63238621499. 3

63238621500. 4

General Test

Group Number :	2
Group Id :	6323866
Group Maximum Duration :	60
Group Minimum Duration :	60
Show Attended Group? :	No
Edit Attended Group? :	No
Break time :	0
Group Marks :	250
Is this Group for Examiner? :	No
Examiner permission :	Cant View
Show Progress Bar? :	No

General Test

Section Id :	6323866
Section Number :	1
Section type :	Online
Mandatory or Optional :	Mandatory
Number of Questions :	60
Number of Questions to be attempted :	50
Section Marks :	250
Enable Mark as Answered Mark for Review and Clear Response :	Yes
Maximum Instruction Time :	0

Sub-Section Number : 1
Sub-Section Id : 63238615
Question Shuffling Allowed : Yes
Is Section Default? : null

Question Number : 51 Question Id : 6323865376 Question Type : MCQ Option Shuffling : No Is Question Mandatory : No Calculator : None Response Time : N.A Think Time : N.A Minimum Instruction Time : 0

Correct Marks : 5 Wrong Marks : 1

The ratio of ages of 2 boys is 3:7. After 2 years, the ratio of their ages will become 5:9. The ratio of their ages after 10 years will be

1. 15:16
2. 5:17
3. 17:18
4. 13:17

Options :

- 63238621501. 1
- 63238621502. 2
- 63238621503. 3
- 63238621504. 4

Question Number : 51 Question Id : 6323865376 Question Type : MCQ Option Shuffling : No Is Question Mandatory : No Calculator : None Response Time : N.A Think Time : N.A Minimum Instruction Time : 0

Correct Marks : 5 Wrong Marks : 1

दो लड़कों की आयु का अनुपात 3:7 है। दो वर्षों के उपरांत उनकी आयु का अनुपात 5:9 हो जाएगा। 10 वर्षों के उपरांत उनकी आयु का अनुपात क्या होगा :

1. 15:16

2. 5:17

3. 17:18

4. 13:17

Options :

63238621501. 1

63238621502. 2

63238621503. 3

63238621504. 4

Question Number : 52 Question Id : 6323865377 Question Type : MCQ Option Shuffling : No Is Question Mandatory : No Calculator : None Response Time : N.A Think Time : N.A Minimum Instruction Time : 0

Correct Marks : 5 Wrong Marks : 1

X got 98 marks in his exam which is 56% of the total marks. What is the maximum marks of the exam?

1. 150

2. 175

3. 200

4. 225

Options :

63238621505. 1

63238621506. 2

63238621507. 3

63238621508. 4

Question Number : 52 Question Id : 6323865377 Question Type : MCQ Option Shuffling : No Is

Question Mandatory : No Calculator : None Response Time : N.A Think Time : N.A Minimum

Instruction Time : 0

Correct Marks : 5 Wrong Marks : 1

X ने परीक्षा में 98 अंक प्राप्त किये जो कुल अंकों का 56% है। परीक्षा के अधिकतम अंक क्या हैं :

1. 150

2. 175

3. 200

4. 225

Options :

63238621505. 1

63238621506. 2

63238621507. 3

63238621508. 4

Question Number : 53 Question Id : 6323865378 Question Type : MCQ Option Shuffling : No Is

Question Mandatory : No Calculator : None Response Time : N.A Think Time : N.A Minimum

Instruction Time : 0

Correct Marks : 5 Wrong Marks : 1

Find a single equivalent increase if the number is successively increased by 20%, 25% and 30%?

1. 75%

2. 85%

3. 95%

4. 35%

Options :

63238621509. 1

63238621510. 2

63238621511. 3

63238621512. 4

Question Number : 53 Question Id : 6323865378 Question Type : MCQ Option Shuffling : No Is Question Mandatory : No Calculator : None Response Time : N.A Think Time : N.A Minimum Instruction Time : 0

Correct Marks : 5 Wrong Marks : 1

यदि किसी संख्या को उत्तरोत्तर : 20% 25% तथा 30% बढ़ाया जाए तो एक समतुल्य वृद्धि ज्ञात करें:

1. 75%

2. 85%

3. 95%

4. 35%

Options :

63238621509. 1

63238621510. 2

63238621511. 3

63238621512. 4

Question Number : 54 Question Id : 6323865379 Question Type : MCQ Option Shuffling : No Is Question Mandatory : No Calculator : None Response Time : N.A Think Time : N.A Minimum Instruction Time : 0

Correct Marks : 5 Wrong Marks : 1

If selling price of 80 articles is equal to the cost price of 100 articles, then find the gain percentage.

1. 30%

2. 25%

3. 40%

4. 50%

Options :

63238621513. 1

63238621514. 2

63238621515. 3

63238621516. 4

Question Number : 54 Question Id : 6323865379 Question Type : MCQ Option Shuffling : No Is

Question Mandatory : No Calculator : None Response Time : N.A Think Time : N.A Minimum

Instruction Time : 0

Correct Marks : 5 Wrong Marks : 1

यदि 80 वस्तुओं का विक्रय मूल्य 100 वस्तुओं के क्रय मूल्य के बराबर है, तो प्रतिशत लाभ ज्ञात करें।

1. 30%

2. 25%

3. 40%

4. 50%

Options :

63238621513. 1

63238621514. 2

63238621515. 3

63238621516. 4

Question Number : 55 Question Id : 6323865380 Question Type : MCQ Option Shuffling : No Is

Question Mandatory : No Calculator : None Response Time : N.A Think Time : N.A Minimum

Instruction Time : 0

Correct Marks : 5 Wrong Marks : 1

What sum of money will amount to Rs. 520 in 5 years and to Rs 568 in 7 years on simple interest?

1. Rs. 400

2. Rs. 120

3. Rs. 510

4. Rs. 220

Options :

63238621517. 1

63238621518. 2

63238621519. 3

63238621520. 4

Question Number : 55 Question Id : 6323865380 Question Type : MCQ Option Shuffling : No Is Question Mandatory : No Calculator : None Response Time : N.A Think Time : N.A Minimum Instruction Time : 0

Correct Marks : 5 Wrong Marks : 1

साधारण ब्याज पर कितनी राशि 5 वर्षों में ₹520 तथा 7 वर्षों में ₹568 बन जाएगी ?

1. ₹400

2. ₹120

3. ₹510

4. ₹220

Options :

63238621517. 1

63238621518. 2

63238621519. 3

63238621520. 4

Question Number : 56 Question Id : 6323865381 Question Type : MCQ Option Shuffling : No Is Question Mandatory : No Calculator : None Response Time : N.A Think Time : N.A Minimum Instruction Time : 0

Correct Marks : 5 Wrong Marks : 1

The area of a circle is numerically equal to its circumference. Find the diameter of the circle.

1. 2 unit
2. 4 unit
3. 1 unit
4. 5 unit

Options :

63238621521. 1
63238621522. 2
63238621523. 3
63238621524. 4

Question Number : 56 Question Id : 6323865381 Question Type : MCQ Option Shuffling : No Is Question Mandatory : No Calculator : None Response Time : N.A Think Time : N.A Minimum Instruction Time : 0

Correct Marks : 5 Wrong Marks : 1

एक वृत्त का क्षेत्रफल संख्यात्मक रूप से उसकी परिधि के बराबर है। इस वृत्त का व्यास ज्ञात करें।

1. 2 इकाई
2. 4 इकाई
3. 1 इकाई
4. 5 इकाई

Options :

63238621521. 1
63238621522. 2
63238621523. 3
63238621524. 4

Question Number : 57 Question Id : 6323865382 Question Type : MCQ Option Shuffling : No Is Question Mandatory : No Calculator : None Response Time : N.A Think Time : N.A Minimum

Instruction Time : 0

Correct Marks : 5 Wrong Marks : 1

Find the perimeter of a rhombus whose one diagonal is 16 cm long and area is 240 cm^2 .

1. 68 cm

2. 30 cm

3. 24 cm

4. 36 cm

Options :

63238621525. 1

63238621526. 2

63238621527. 3

63238621528. 4

Question Number : 57 Question Id : 6323865382 Question Type : MCQ Option Shuffling : No Is

Question Mandatory : No Calculator : None Response Time : N.A Think Time : N.A Minimum

Instruction Time : 0

Correct Marks : 5 Wrong Marks : 1

किसी समचतुर्भुज का परिमाण ज्ञात करें जिसका एक विकर्ण 16 से.मी. लंबा है तथा क्षेत्रफल 240 से.मी^2 है।

1. 68 से.मी

2. 30 से.मी

3. 24 से.मी

4. 36 से.मी

Options :

63238621525. 1

63238621526. 2

63238621527. 3

63238621528. 4

Question Number : 58 Question Id : 6323865383 Question Type : MCQ Option Shuffling : No Is Question Mandatory : No Calculator : None Response Time : N.A Think Time : N.A Minimum Instruction Time : 0

Correct Marks : 5 Wrong Marks : 1

The point $(-2, 3)$ lies in which quadrant?

1. I
2. II
3. III
4. IV

Options :

- 63238621529. 1
- 63238621530. 2
- 63238621531. 3
- 63238621532. 4

Question Number : 58 Question Id : 6323865383 Question Type : MCQ Option Shuffling : No Is Question Mandatory : No Calculator : None Response Time : N.A Think Time : N.A Minimum Instruction Time : 0

Correct Marks : 5 Wrong Marks : 1

बिन्दु $(-2, 3)$ किस चतुर्थांश में स्थित है :

1. I
2. II
3. III
4. IV

Options :

- 63238621529. 1
- 63238621530. 2
- 63238621531. 3

63238621532. 4

Question Number : 59 Question Id : 6323865384 Question Type : MCQ Option Shuffling : No Is Question Mandatory : No Calculator : None Response Time : N.A Think Time : N.A Minimum Instruction Time : 0

Correct Marks : 5 Wrong Marks : 1

If the median of $\frac{x}{5}, x, \frac{x}{4}, \frac{x}{2}$ and $\frac{x}{3}$ (where $x > 0$) is 8, then the value of x will be

1. 24

2. 32

3. 8

4. 16

Options :

63238621533. 1

63238621534. 2

63238621535. 3

63238621536. 4

Question Number : 59 Question Id : 6323865384 Question Type : MCQ Option Shuffling : No Is Question Mandatory : No Calculator : None Response Time : N.A Think Time : N.A Minimum Instruction Time : 0

Correct Marks : 5 Wrong Marks : 1

यदि $\frac{x}{5}, x, \frac{x}{4}, \frac{x}{2}$ तथा $\frac{x}{3}$ (जहाँ $N > 0$) की माध्यक 8 है तो x का मान क्या होगा :

1. 24

2. 32

3. 8

4. 16

Options :

63238621533. 1

63238621534. 2

63238621535. 3

63238621536. 4

Question Number : 60 Question Id : 6323865385 Question Type : MCQ Option Shuffling : No Is Question Mandatory : No Calculator : None Response Time : N.A Think Time : N.A Minimum Instruction Time : 0

Correct Marks : 5 Wrong Marks : 1

What is the probability that any non-leap year will have 53 Sundays?

1. $\frac{1}{53}$

2. $\frac{2}{53}$

3. $\frac{1}{7}$

4. $\frac{2}{7}$

Options :

63238621537. 1

63238621538. 2

63238621539. 3

63238621540. 4

Question Number : 60 Question Id : 6323865385 Question Type : MCQ Option Shuffling : No Is Question Mandatory : No Calculator : None Response Time : N.A Think Time : N.A Minimum Instruction Time : 0

Correct Marks : 5 Wrong Marks : 1

किसी भी ऐसे वर्ष में जो लीप वर्ष नहीं है, 53 रविवार होने की प्रायिकता क्या है :

1. $\frac{1}{53}$

2. $\frac{2}{53}$

3. $\frac{1}{7}$

4. $\frac{2}{7}$

Options :

63238621537. 1

63238621538. 2

63238621539. 3

63238621540. 4

Question Number : 61 Question Id : 6323865386 Question Type : MCQ Option Shuffling : No Is Question Mandatory : No Calculator : None Response Time : N.A Think Time : N.A Minimum Instruction Time : 0

Correct Marks : 5 Wrong Marks : 1

A bag contains 5 black, 3 white and 2 red balls. Three balls are drawn in succession. What is the probability that the first ball is red, the second ball is black and the third ball is white?

1. $\frac{1}{24}$

2. $\frac{3}{10}$

3. $\frac{1}{10}$

4. $\frac{1}{2}$

Options :

63238621541. 1

63238621542. 2

63238621543. 3

63238621544. 4

Question Number : 61 Question Id : 6323865386 Question Type : MCQ Option Shuffling : No Is

Question Mandatory : No Calculator : None Response Time : N.A Think Time : N.A Minimum

Instruction Time : 0

Correct Marks : 5 Wrong Marks : 1

एक बैग में 5 काली, 3 सफेद तथा 2 लाल गेंदे हैं। एक के बाद एक तीन गेंदे निकाली गईं। पहली गेंद के लाल, दूसरी के काली तथा तीसरी गेंदे के सफेद होने की प्रायिकता क्या है :

1. $\frac{1}{24}$

2. $\frac{3}{10}$

3. $\frac{1}{10}$

4. $\frac{1}{2}$

Options :

63238621541. 1

63238621542. 2

63238621543. 3

63238621544. 4

Question Number : 62 Question Id : 6323865387 Question Type : MCQ Option Shuffling : No Is

Question Mandatory : No Calculator : None Response Time : N.A Think Time : N.A Minimum

Instruction Time : 0

Correct Marks : 5 Wrong Marks : 1

The average of 12 numbers is 15 and the average of the first two numbers is 14. What is the average of the remaining numbers?

1. 15
2. 15.2
3. 14
4. 14.2

Options :

- 63238621545. 1
- 63238621546. 2
- 63238621547. 3
- 63238621548. 4

Question Number : 62 Question Id : 6323865387 Question Type : MCQ Option Shuffling : No Is Question Mandatory : No Calculator : None Response Time : N.A Think Time : N.A Minimum Instruction Time : 0

Correct Marks : 5 Wrong Marks : 1

12 संख्याओं का औसत 15 है तथा उनमें से पहली दो संख्याओं का औसत 14 है। शेष संख्याओं का औसत क्या है?

1. 15
2. 15.2
3. 14
4. 14.2

Options :

- 63238621545. 1
- 63238621546. 2
- 63238621547. 3
- 63238621548. 4

Question Number : 63 Question Id : 6323865388 Question Type : MCQ Option Shuffling : No Is

Question Mandatory : No Calculator : None Response Time : N.A Think Time : N.A Minimum

Instruction Time : 0

Correct Marks : 5 Wrong Marks : 1

A railway half-ticket costs half the full ticket. However the reservation charge for all the tickets is constant. One full reserved ticket for a journey is ₹525. If the cost of one full and one half reserved ticket for the same journey is ₹850, then what is the reservation charge per ticket?

1. ₹120
2. ₹150
3. ₹125
4. ₹115

Options :

63238621549. 1
63238621550. 2
63238621551. 3
63238621552. 4

Question Number : 63 Question Id : 6323865388 Question Type : MCQ Option Shuffling : No Is

Question Mandatory : No Calculator : None Response Time : N.A Think Time : N.A Minimum

Instruction Time : 0

Correct Marks : 5 Wrong Marks : 1

रेलयात्रा के लिए आधी टिकट का मूल्य पूरी टिकट का आधा है। आरक्षण मूल्य सभी टिकटों के लिए समान है। एक पूरी आरक्षित टिकट ₹525 की है। यदि किसी यात्रा के लिए एक पूरी तथा एक आधी आरक्षित टिकटों का मूल्य ₹250 है, तो प्रति टिकट आरक्षण मूल्य क्या है ?

1. ₹120
2. ₹150
3. ₹125
4. ₹115

Options :

63238621549. 1
63238621550. 2

63238621551. 3

63238621552. 4

Question Number : 64 Question Id : 6323865389 Question Type : MCQ Option Shuffling : No Is

Question Mandatory : No Calculator : None Response Time : N.A Think Time : N.A Minimum

Instruction Time : 0

Correct Marks : 5 Wrong Marks : 1

Find the angle of elevation of the Sun, when the length of the shadow of a tree is $\frac{1}{\sqrt{3}}$ times the height of the tree.

1. 30°

2. 45°

3. 60°

4. 90°

Options :

63238621553. 1

63238621554. 2

63238621555. 3

63238621556. 4

Question Number : 64 Question Id : 6323865389 Question Type : MCQ Option Shuffling : No Is

Question Mandatory : No Calculator : None Response Time : N.A Think Time : N.A Minimum

Instruction Time : 0

Correct Marks : 5 Wrong Marks : 1

जब किसी वृक्ष की छाया की लंबाई उस वृक्ष की उँचाई का $\frac{1}{\sqrt{3}}$ है, तो सूर्य का उन्नयन कोण ज्ञात करें

1. 30°

2. 45°

3. 60°

4. 90°

Options :

63238621553. 1

63238621554. 2

63238621555. 3

63238621556. 4

Question Number : 65 Question Id : 6323865390 Question Type : MCQ Option Shuffling : No Is Question Mandatory : No Calculator : None Response Time : N.A Think Time : N.A Minimum Instruction Time : 0

Correct Marks : 5 Wrong Marks : 1

Find the angle of elevation of the Sun, when the length of the shadow of a tree is $\frac{1}{\sqrt{3}}$ times the height of the tree.

1. 30°

2. 45°

3. 60°

4. 90°

Options :

63238621557. 1

63238621558. 2

63238621559. 3

63238621560. 4

Question Number : 65 Question Id : 6323865390 Question Type : MCQ Option Shuffling : No Is Question Mandatory : No Calculator : None Response Time : N.A Think Time : N.A Minimum Instruction Time : 0

Correct Marks : 5 Wrong Marks : 1

यदि किसी शंकु की उँचाई दोगुनी कर दी जाए तो इसके आयतन में कितनी वृद्धि होगी :

1. 50%
2. 100%
3. 150%
4. 200%

Options :

63238621557. 1
63238621558. 2
63238621559. 3
63238621560. 4

Question Number : 66 Question Id : 6323865391 Question Type : MCQ Option Shuffling : No Is Question Mandatory : No Calculator : None Response Time : N.A Think Time : N.A Minimum Instruction Time : 0

Correct Marks : 5 Wrong Marks : 1

A and B can do a work in 9 days and 12 days respectively. If they work on alternate days starting with A, then in how many days will the work be completed?

1. 36 days
2. 10 days
3. $10\frac{1}{4}$ days
4. 13 days

Options :

63238621561. 1
63238621562. 2
63238621563. 3
63238621564. 4

Question Number : 66 Question Id : 6323865391 Question Type : MCQ Option Shuffling : No Is

Question Mandatory : No Calculator : None Response Time : N.A Think Time : N.A Minimum

Instruction Time : 0

Correct Marks : 5 Wrong Marks : 1

A तथा B किसी कार्य को क्रमशः 9 तथा 12 दिनों में कर सकते हैं। यदि A से आरंभ करके बारी-बारी से एक-एक दिन कार्य करते हैं तो वह कार्य कितने दिनों में पूरा हो जाएगा?

1. 36 दिन

2. 10 दिन

3. $10\frac{1}{4}$ दिन

4. 13 दिन

Options :

63238621561. 1

63238621562. 2

63238621563. 3

63238621564. 4

Question Number : 67 Question Id : 6323865392 Question Type : MCQ Option Shuffling : No Is

Question Mandatory : No Calculator : None Response Time : N.A Think Time : N.A Minimum

Instruction Time : 0

Correct Marks : 5 Wrong Marks : 1

Which of the following speeds is the least?

1. 50 meter / second

2. 50 meter / minute

3. 70 km / hour

4. 5 km / minute

Options :

63238621565. 1

63238621566. 2

63238621567. 3

63238621568. 4

Question Number : 67 Question Id : 6323865392 Question Type : MCQ Option Shuffling : No Is Question Mandatory : No Calculator : None Response Time : N.A Think Time : N.A Minimum Instruction Time : 0

Correct Marks : 5 Wrong Marks : 1

नीचे दी गई गतियों में से कौन सी गति सबसे कम है

1. 50 meter / second
2. 50 meter / minute
3. 70 km / hour
4. 5 km / minute

Options :

- 63238621565. 1
- 63238621566. 2
- 63238621567. 3
- 63238621568. 4

Question Number : 68 Question Id : 6323865393 Question Type : MCQ Option Shuffling : No Is Question Mandatory : No Calculator : None Response Time : N.A Think Time : N.A Minimum Instruction Time : 0

Correct Marks : 5 Wrong Marks : 1

What is the smallest square number which is divisible by 4, 6 and 32?

1. 100
2. 196
3. 96
4. 576

Options :

- 63238621569. 1

63238621570. 2

63238621571. 3

63238621572. 4

Question Number : 68 Question Id : 6323865393 Question Type : MCQ Option Shuffling : No Is Question Mandatory : No Calculator : None Response Time : N.A Think Time : N.A Minimum Instruction Time : 0

Correct Marks : 5 Wrong Marks : 1

वह सबसे छोटी वर्ग संख्या कौन सी है जो 4, 6 तथा 32 से विभाज्य है :

1. 100

2. 196

3. 96

4. 576

Options :

63238621569. 1

63238621570. 2

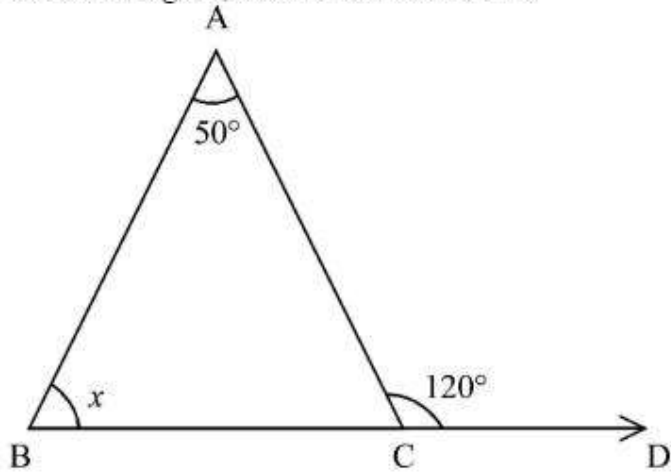
63238621571. 3

63238621572. 4

Question Number : 69 Question Id : 6323865394 Question Type : MCQ Option Shuffling : No Is Question Mandatory : No Calculator : None Response Time : N.A Think Time : N.A Minimum Instruction Time : 0

Correct Marks : 5 Wrong Marks : 1

From the figure, what is the value of x ?



1. 50°
2. 120°
3. 60°
4. 70°

Options :

63238621573. 1

63238621574. 2

63238621575. 3

63238621576. 4

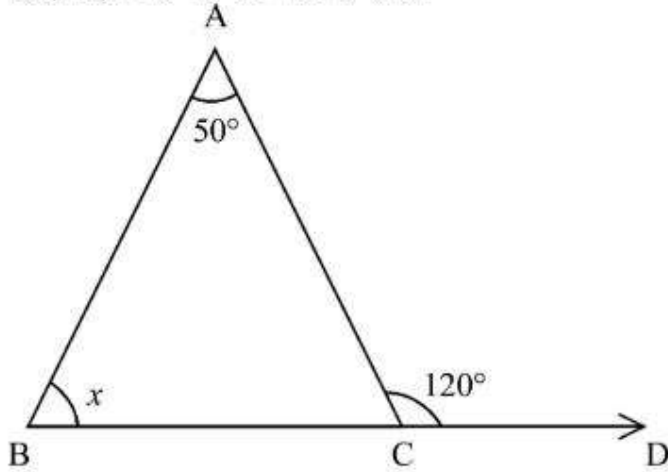
Question Number : 69 Question Id : 6323865394 Question Type : MCQ Option Shuffling : No Is

Question Mandatory : No Calculator : None Response Time : N.A Think Time : N.A Minimum

Instruction Time : 0

Correct Marks : 5 Wrong Marks : 1

दिए गए चित्र में x का मान क्या है :



1. 50°
2. 120°
3. 60°
4. 70°

Options :

63238621573. 1
63238621574. 2
63238621575. 3
63238621576. 4

Question Number : 70 Question Id : 6323865395 Question Type : MCQ Option Shuffling : No Is Question Mandatory : No Calculator : None Response Time : N.A Think Time : N.A Minimum Instruction Time : 0

Correct Marks : 5 Wrong Marks : 1

How many terms are there in the A.P. 3, 7, 11, 407 ?

1. 100
2. 101
3. 99
4. 102

Options :

63238621577. 1

63238621578. 2

63238621579. 3

63238621580. 4

**Question Number : 70 Question Id : 6323865395 Question Type : MCQ Option Shuffling : No Is
Question Mandatory : No Calculator : None Response Time : N.A Think Time : N.A Minimum
Instruction Time : 0**

Correct Marks : 5 Wrong Marks : 1

समांतर श्रेणी 3, 7, 11, 407 में कितने पद है :

1. 100

2. 101

3. 99

4. 102

Options :

63238621577. 1

63238621578. 2

63238621579. 3

63238621580. 4

**Question Number : 71 Question Id : 6323865396 Question Type : MCQ Option Shuffling : No Is
Question Mandatory : No Calculator : None Response Time : N.A Think Time : N.A Minimum
Instruction Time : 0**

Correct Marks : 5 Wrong Marks : 1

Match List I with List II

LIST I		LIST II	
A.	Blue Revolution	I.	Increase in crop yield and Agricultural Products
B.	White Revolution	II.	Increase in Oil-Seeds Production
C.	Yellow Revolution	III.	Increase of Fish Production
D.	Green Revolution	IV.	Increase in the field of milk production

Choose the most appropriate answer from the options given below:

1. A-IV, B-III, C-II, D-I
2. A-III, B-IV, C-II, D-I
3. A-I, B-III, C-II, D-IV
4. A-III, B-I, C-II, D-IV

Options :

63238621581. 1
63238621582. 2
63238621583. 3
63238621584. 4

Question Number : 71 Question Id : 6323865396 Question Type : MCQ Option Shuffling : No Is Question Mandatory : No Calculator : None Response Time : N.A Think Time : N.A Minimum Instruction Time : 0

Correct Marks : 5 Wrong Marks : 1

सूची I के साथ सूची II का मिलान कीजिए

LIST I		LIST II	
A.	नील क्रांति	I.	शस्य उपज तथा कृषि उत्पादों में वृद्धि
B.	श्वेत क्रांति	II.	तैलीय बीजों के उत्पादन में वृद्धि
C.	पीली क्रांति	III.	मत्स्य उत्पादन में वृद्धि
D.	हरित क्रांति	IV.	दुग्ध उत्पादन के क्षेत्र में वृद्धि

नीचे दिए गए विकल्पों में सबसे उपयुक्त उत्तर का चयन कीजिए:

1. A-IV, B-III, C-II, D-I
2. A-III, B-IV, C-II, D-I
3. A-I, B-III, C-II, D-IV
4. A-III, B-I, C-II, D-IV

Options :

63238621581. 1
63238621582. 2
63238621583. 3
63238621584. 4

Question Number : 72 Question Id : 6323865397 Question Type : MCQ Option Shuffling : No Is Question Mandatory : No Calculator : None Response Time : N.A Think Time : N.A Minimum Instruction Time : 0

Correct Marks : 5 Wrong Marks : 1

The relationship between the values of a country's imports and its exports is called.

1. Balance of Trade
2. Balance of Payment
3. Balance of currency
4. Bill of exchange

Options :

63238621585. 1
63238621586. 2

63238621587. 3

63238621588. 4

Question Number : 72 Question Id : 6323865397 Question Type : MCQ Option Shuffling : No Is

Question Mandatory : No Calculator : None Response Time : N.A Think Time : N.A Minimum

Instruction Time : 0

Correct Marks : 5 Wrong Marks : 1

किसी देश के आयात तथा निर्यात के मूल्यों में संबंध को कहते हैं

1. व्यापरावशेष
2. शेष भुगतान
3. मुद्रा का संतुलन
4. विनिमय बिल

Options :

63238621585. 1

63238621586. 2

63238621587. 3

63238621588. 4

Question Number : 73 Question Id : 6323865398 Question Type : MCQ Option Shuffling : No Is

Question Mandatory : No Calculator : None Response Time : N.A Think Time : N.A Minimum

Instruction Time : 0

Correct Marks : 5 Wrong Marks : 1

Which of the following players didn't receive Medal in Tokyo Olympics 2020?

1. PV Sindhu
2. Neeraj Chopra
3. Abhinav Bindra
4. Ravi Kumar Dahiya

Options :

63238621589. 1

63238621590. 2

63238621591. 3

63238621592. 4

**Question Number : 73 Question Id : 6323865398 Question Type : MCQ Option Shuffling : No Is
Question Mandatory : No Calculator : None Response Time : N.A Think Time : N.A Minimum
Instruction Time : 0**

Correct Marks : 5 Wrong Marks : 1

टोक्यो ऑलिंपिक्स 2020 में निम्न में किस खिलाड़ी को पदक नहीं मिला :

1. पी. वी. सिंधु
2. नीरज चोपड़ा
3. अभिनव बिंद्रा
4. रवी कुमार दहिया

Options :

63238621589. 1

63238621590. 2

63238621591. 3

63238621592. 4

**Question Number : 74 Question Id : 6323865399 Question Type : MCQ Option Shuffling : No Is
Question Mandatory : No Calculator : None Response Time : N.A Think Time : N.A Minimum
Instruction Time : 0**

Correct Marks : 5 Wrong Marks : 1

Which of the following is a metal

1. Carbon
2. Mercury
3. Sulphur
4. Iodine

Options :

63238621593. 1

63238621594. 2

63238621595. 3

63238621596. 4

Question Number : 74 Question Id : 6323865399 Question Type : MCQ Option Shuffling : No Is Question Mandatory : No Calculator : None Response Time : N.A Think Time : N.A Minimum Instruction Time : 0

Correct Marks : 5 Wrong Marks : 1

निम्न में से धातु कौनसी है :

1. कार्बन
2. पारा
3. सल्फर
4. आयोडीन

Options :

63238621593. 1

63238621594. 2

63238621595. 3

63238621596. 4

Question Number : 75 Question Id : 6323865400 Question Type : MCQ Option Shuffling : No Is Question Mandatory : No Calculator : None Response Time : N.A Think Time : N.A Minimum

Instruction Time : 0

Correct Marks : 5 Wrong Marks : 1

Match List I with List II

LIST I Diet deficiency		LIST II Disease	
A.	Deficiency of Vitamin B	I.	Anaemia
B.	Deficiency of Vitamin A	II.	Beri-Beri
C.	Deficiency of Iron	III.	Goitre
D.	Deficiency of Iodine	IV.	Night blindness

Choose the most appropriate answer from the options given below:

1. A-IV, B-II, C-III, D-I
2. A-II, B-IV, C-I, D-III
3. A-I, B-III, C-IV, D-II
4. A-III, B-I, C-II, D-IV

Options :

63238621597. 1

63238621598. 2

63238621599. 3

63238621600. 4

Question Number : 75 Question Id : 6323865400 Question Type : MCQ Option Shuffling : No Is

Question Mandatory : No Calculator : None Response Time : N.A Think Time : N.A Minimum

Instruction Time : 0

Correct Marks : 5 Wrong Marks : 1

सूची I के साथ सूची II का मिलान कीजिए

सूची I आहार हीनता		सूची II बीमारी	
A.	विटामिन बी की कमी	I.	रक्त की कमी
B.	विटामिन ए की कमी	II.	बेरी-बेरी
C.	लोहे की कमी	III.	गलगंड
D.	आयोडीन की कमी	IV.	रतौंधी

नीचे दिए गए विकल्पों में सबसे उपयुक्त उत्तर का चयन कीजिए:

1. A-IV, B-II, C-III, D-I
2. A-II, B-IV, C-I, D-III
3. A-I, B-III, C-IV, D-II
4. A-III, B-I, C-II, D-IV

Options :

63238621597. 1
63238621598. 2
63238621599. 3
63238621600. 4

Question Number : 76 Question Id : 6323865401 Question Type : MCQ Option Shuffling : No Is Question Mandatory : No Calculator : None Response Time : N.A Think Time : N.A Minimum Instruction Time : 0

Correct Marks : 5 Wrong Marks : 1

Major Constituent of natural gas is.

1. Propane
2. Butane
3. Methane
4. Carbon

Options :

63238621601. 1

63238621602. 2

63238621603. 3

63238621604. 4

Question Number : 76 Question Id : 6323865401 Question Type : MCQ Option Shuffling : No Is Question Mandatory : No Calculator : None Response Time : N.A Think Time : N.A Minimum Instruction Time : 0

Correct Marks : 5 Wrong Marks : 1

प्राकृतिक गैस के प्रमुख घटक कोनसा है :

1. प्रोपेन

2. ब्यूटेन

3. मीथेन

4. कार्बन

Options :

63238621601. 1

63238621602. 2

63238621603. 3

63238621604. 4

Question Number : 77 Question Id : 6323865402 Question Type : MCQ Option Shuffling : No Is Question Mandatory : No Calculator : None Response Time : N.A Think Time : N.A Minimum Instruction Time : 0

Correct Marks : 5 Wrong Marks : 1

Match List I with List II

LIST I Physical Quantity		LIST II Units	
A.	Electric charge	I.	Newton
B.	Force	II.	Coulomb
C.	Power	III.	Joule
D.	Energy	IV.	Watt

Choose the most appropriate answer from the options given below:

1. A-I, B-II, C-IV, D-III
2. A-II, B-I, C-IV, D-III
3. A-II, B-IV, C-I, D-III
4. A-III, B-II, C-IV, D-I

Options :

63238621605. 1
63238621606. 2
63238621607. 3
63238621608. 4

**Question Number : 77 Question Id : 6323865402 Question Type : MCQ Option Shuffling : No Is
Question Mandatory : No Calculator : None Response Time : N.A Think Time : N.A Minimum
Instruction Time : 0**

Correct Marks : 5 Wrong Marks : 1

सूची I के साथ सूची II का मिलान कीजिए

सूची I (भौतिक राशियां)		सूची II (मात्रक)	
A.	वैद्युत आवेश	I.	न्यूटन
B.	बल	II.	कूलोम्ब
C.	शक्ति	III.	जूल
D.	ऊर्जा	IV.	वाट

नीचे दिए गए विकल्पों में सबसे उपयुक्त उत्तर का चयन कीजिए:

1. A-I, B-II, C-IV, D-III
2. A-II, B-I, C-IV, D-III
3. A-II, B-IV, C-I, D-III
4. A-III, B-II, C-IV, D-I

Options :

63238621605. 1
63238621606. 2
63238621607. 3
63238621608. 4

**Question Number : 78 Question Id : 6323865403 Question Type : MCQ Option Shuffling : No Is
Question Mandatory : No Calculator : None Response Time : N.A Think Time : N.A Minimum
Instruction Time : 0**

Correct Marks : 5 Wrong Marks : 1

Match List I with List II

LIST I Deficiency		LIST II Diseases	
A.	Insulin	I.	Kwashiorka
B.	Protein	II.	Scurvy
C.	Thyroxin	III.	Diabetes
D.	Vitamin C	IV.	Goitre

Choose the correct answer from the options given below:

1. A-III, B-I, C-IV, D-II
2. A-I, B-III, C-IV, D-II
3. A-II, B-I, C-IV, D-III
4. A-IV, B-III, C-II, D-I

Options :

63238621609. 1

63238621610. 2

63238621611. 3

63238621612. 4

**Question Number : 78 Question Id : 6323865403 Question Type : MCQ Option Shuffling : No Is
Question Mandatory : No Calculator : None Response Time : N.A Think Time : N.A Minimum
Instruction Time : 0**

Correct Marks : 5 Wrong Marks : 1

सूची I के साथ सूची II का मिलान कीजिए

सूची I (न्यूनता)		सूची II (रोग)	
A.	इंसुलिन	I.	काशियरकोर
B.	प्रोटीन	II.	स्कर्वी
C.	थायरोक्सिन	III.	मधमेह
D.	विटामिन सी	IV.	गलगंड

नीचे दिए गए विकल्पों में सबसे उपयुक्त उत्तर का चयन कीजिए:

1. A-III, B-I, C-IV, D-II
2. A-I, B-III, C-IV, D-II
3. A-II, B-I, C-IV, D-III
4. A-IV, B-III, C-II, D-I

Options :

63238621609. 1
63238621610. 2
63238621611. 3
63238621612. 4

Question Number : 79 Question Id : 6323865404 Question Type : MCQ Option Shuffling : No Is Question Mandatory : No Calculator : None Response Time : N.A Think Time : N.A Minimum Instruction Time : 0

Correct Marks : 5 Wrong Marks : 1

Statement I : Constitution is the frame work for the governance of a country which delegates power and authority to the executive, legislative and judiciary.

Statement II : It serves a country in maintaining good relationships with her neighboring countries.

In the light of the above statements, choose the most appropriate answer from the options below.

1. Both Statement I and Statement II are correct
2. Both Statement I and Statement II are incorrect
3. Statement I is correct but Statement II is incorrect
4. Statement I is incorrect but Statement II is correct

Options :

63238621613. 1

63238621614. 2

63238621615. 3

63238621616. 4

Question Number : 79 Question Id : 6323865404 Question Type : MCQ Option Shuffling : No Is

Question Mandatory : No Calculator : None Response Time : N.A Think Time : N.A Minimum

Instruction Time : 0

Correct Marks : 5 Wrong Marks : 1

नीचे दो कथन दिए गए हैं:

कथन I : संविधान किसी देश के शासन का ढाँचा है जो कार्यपालिका, विधायी तथा न्यायपालिका को शक्ति तथा अधिकार प्रदान करता है।

कथन II : यह किसी देश को उसके पड़ोसी देशों के साथ अच्छे संबंध बनाए रखने में सहायता देता है।

उपरोक्त कथनों के संदर्भ में, नीचे दिए गए विकल्पों में से सबसे उपयुक्त उत्तर का चयन कीजिए।

1. दोनों कथन I और कथं II दोनों सही हैं
2. दोनों कथन I और कथं II दोनों गलत हैं
3. कथन I सही है, लेकिन कथन II गलत है
4. कथन I गलत है, लेकिन कथन II सही है

Options :

63238621613. 1

63238621614. 2

63238621615. 3

63238621616. 4

Question Number : 80 Question Id : 6323865405 Question Type : MCQ Option Shuffling : No Is

Question Mandatory : No Calculator : None Response Time : N.A Think Time : N.A Minimum

Instruction Time : 0

Correct Marks : 5 Wrong Marks : 1

The only Indian who received noble prize in literature is.

1. Bankim Chandra Chatterjee
2. Toradutt
3. R.K. Narayan
4. Rabindra Nath Tagore

Options :

63238621617. 1
63238621618. 2
63238621619. 3
63238621620. 4

**Question Number : 80 Question Id : 6323865405 Question Type : MCQ Option Shuffling : No Is
Question Mandatory : No Calculator : None Response Time : N.A Think Time : N.A Minimum
Instruction Time : 0**

Correct Marks : 5 Wrong Marks : 1

साहित्य के क्षेत्र में वो एकमात्र भारतीय कौन है जिसने नोबेल पुरस्कार प्राप्त किया :

1. बंकिम चन्द्र चटर्जी
2. तोरा दत्त
3. आर.के. नारायण
4. रबीन्द्र नाथ टैगोर

Options :

63238621617. 1
63238621618. 2
63238621619. 3
63238621620. 4

Question Number : 81 Question Id : 6323865406 Question Type : MCQ Option Shuffling : No Is Question Mandatory : No Calculator : None Response Time : N.A Think Time : N.A Minimum Instruction Time : 0

Correct Marks : 5 Wrong Marks : 1

which book is Written by Dr.S.Radha Krishnan ?

1. The world's largest democracy
2. India divided
3. Indian Philosophy
4. India Priceless heritage

Options :

63238621621. 1

63238621622. 2

63238621623. 3

63238621624. 4

Question Number : 81 Question Id : 6323865406 Question Type : MCQ Option Shuffling : No Is Question Mandatory : No Calculator : None Response Time : N.A Think Time : N.A Minimum Instruction Time : 0

Correct Marks : 5 Wrong Marks : 1

डॉ.एस.राधाकृष्णन द्वारा लिखी गई पुस्तक कौन सी है :

1. द वर्ल्ड्स लार्जस्ट डेमोक्रेसी
2. इंडिया डिवाइडिड
3. इंडियन फिलोसॉफी
4. इंडिया प्राइसलैस हैरिटेज

Options :

63238621621. 1

63238621622. 2

63238621623. 3

**Question Number : 82 Question Id : 6323865407 Question Type : MCQ Option Shuffling : No Is
Question Mandatory : No Calculator : None Response Time : N.A Think Time : N.A Minimum
Instruction Time : 0**

Correct Marks : 5 Wrong Marks : 1

Match List I with List II

LIST I Books		LIST II Authors	
A.	India wins freedom	I.	R K Narayan
B.	The guide	II.	Mahatma Gandhi
C.	India from midnight to Millenium	III.	Abdul Kalam Azad
D.	Conquest of self	IV.	Shashi Tharoor

Choose the most appropriate answer from the options given below:

1. A-I, B-III, C-IV, D-II
2. A-III, B-I, C-IV, D-II
3. A-III, B-I, C-II, D-IV
4. A-I, B-IV, C-II, D-III

Options :

63238621625. 1

63238621626. 2

63238621627. 3

63238621628. 4

**Question Number : 82 Question Id : 6323865407 Question Type : MCQ Option Shuffling : No Is
Question Mandatory : No Calculator : None Response Time : N.A Think Time : N.A Minimum
Instruction Time : 0**

Correct Marks : 5 Wrong Marks : 1

सूची I के साथ सूची II का मिलान कीजिए

सूची I (पुस्तकें)		सूची II (लेखक)	
A.	इंडिया विन्स फ्रीडम	I.	आर.के. नारायण
B.	द गाइड	II.	महात्मा गाँधी
C.	इंडिया फ्रॉम मिडनाइट टु मिलेनियम	III.	अबुल कलाम आज़ाद
D.	कॉन्क्रेस्ट ऑफ सेल्फ	IV.	शशि थरूर

नीचे दिए गए विकल्पों सबसे उपयुक्त का चयन कीजिए:

1. A-I, B-III, C-IV, D-II

2. A-III, B-I, C-IV, D-II

3. A-III, B-I, C-II, D-IV

4. A-I, B-IV, C-II, D-III

Options :

63238621625. 1

63238621626. 2

63238621627. 3

63238621628. 4

Question Number : 83 Question Id : 6323865408 Question Type : MCQ Option Shuffling : No Is

Question Mandatory : No Calculator : None Response Time : N.A Think Time : N.A Minimum

Instruction Time : 0

Correct Marks : 5 Wrong Marks : 1

Match List I with List II

LIST I River		LIST II City	
A.	Mahanadi	I.	Ludhiana
B.	Godavari	II.	Cuttack
C.	Sutlej	III.	Lucknow
D.	Gomti	IV.	Nasik

Choose the most appropriate answer from the options given below:

1. A-II, B-IV, C-III, D-I
2. A-II, B-IV, C-I, D-III
3. A-IV, B-II, C-I, D-III
4. A-III, B-I, C-II, D-IV

Options :

63238621629. 1

63238621630. 2

63238621631. 3

63238621632. 4

**Question Number : 83 Question Id : 6323865408 Question Type : MCQ Option Shuffling : No Is
Question Mandatory : No Calculator : None Response Time : N.A Think Time : N.A Minimum
Instruction Time : 0**

Correct Marks : 5 Wrong Marks : 1

सूची I के साथ सूची II का मिलान कीजिए

सूची I (नदी)		सूची II (शहर)	
A.	महानदी	I.	लुधियाना
B.	गोदावरी	II.	कटक
C.	सतलुज	III.	लखनऊ
D.	गोमती	IV.	नासिक

नीचे दिए गए विकल्पों में से सही उत्तर का चयन कीजिए:

1. A-II, B-IV, C-III, D-I
2. A-II, B-IV, C-I, D-III
3. A-IV, B-II, C-I, D-III
4. A-III, B-I, C-II, D-IV

Options :

63238621629. 1
63238621630. 2
63238621631. 3
63238621632. 4

**Question Number : 84 Question Id : 6323865409 Question Type : MCQ Option Shuffling : No Is
Question Mandatory : No Calculator : None Response Time : N.A Think Time : N.A Minimum
Instruction Time : 0**

Correct Marks : 5 Wrong Marks : 1

Match List I with List II Cities with their nicknames

LIST I Cities		LIST II Nickname	
A.	Nagpur	I.	Diamond City
B.	Surat	II.	Pink City
C.	Jaisalmer	III.	Orange City
D.	Jaipur	IV.	Golden City

Choose the most appropriate answer from the options given below:

1. A-III, B-I, C-IV, D-II
2. A-I, B-III, C-IV, D-II
3. A-III, B-I, C-II, D-IV
4. A-II, B-I, C-III, D-IV

Options :

63238621633. 1

63238621634. 2

63238621635. 3

63238621636. 4

**Question Number : 84 Question Id : 6323865409 Question Type : MCQ Option Shuffling : No Is
Question Mandatory : No Calculator : None Response Time : N.A Think Time : N.A Minimum
Instruction Time : 0**

Correct Marks : 5 Wrong Marks : 1

सूची I के साथ सूची II का मिलान कीजिए।

सूची I (शहर)		सूची II (उपनाम)	
A.	नागपुर	I.	डायमंड सिटी
B.	सुरत	II.	पिंक सिटी
C.	जैसलमेर	III.	ओरेंज सिटी
D.	जयपुर	IV.	गोल्डन सिटी

नीचे दिए गए विकल्पों में से सही उत्तर का चयन कीजिए:

1. A-III, B-I, C-IV, D-II
2. A-I, B-III, C-IV, D-II
3. A-III, B-I, C-II, D-IV
4. A-II, B-I, C-III, D-IV

Options :

63238621633. 1
63238621634. 2
63238621635. 3
63238621636. 4

Question Number : 85 Question Id : 6323865410 Question Type : MCQ Option Shuffling : No Is Question Mandatory : No Calculator : None Response Time : N.A Think Time : N.A Minimum Instruction Time : 0

Correct Marks : 5 Wrong Marks : 1

Which of the following is not a 'state'?

1. Nagaland
2. Manipur
3. Laddakh
4. Meghalaya

Options :

63238621637. 1

63238621638. 2

63238621639. 3

63238621640. 4

**Question Number : 85 Question Id : 6323865410 Question Type : MCQ Option Shuffling : No Is
Question Mandatory : No Calculator : None Response Time : N.A Think Time : N.A Minimum
Instruction Time : 0**

Correct Marks : 5 Wrong Marks : 1

निम्न में से कौनसा राज्य नहीं है :

1. नागालैंड

2. मणिपुर

3. लदाख

4. मेघालय

Options :

63238621637. 1

63238621638. 2

63238621639. 3

63238621640. 4

**Question Number : 86 Question Id : 6323865411 Question Type : MCQ Option Shuffling : No Is
Question Mandatory : No Calculator : None Response Time : N.A Think Time : N.A Minimum
Instruction Time : 0**

Correct Marks : 5 Wrong Marks : 1

Match List I with List II

LIST I Scientists		LIST II Discoveries	
A.	Har Gobind Khorana	I.	Discovery of Zero
B.	C.V Raman	II.	Genetic composition of cell
C.	Jagdish Chandra Bose	III.	Scattering of light
D.	Aryabhata	IV.	Measurement of plant growth

Choose the most appropriate answer from the options given below:

1. A-II, B-III, C-I, D-IV
2. A-III, B-II, C-IV, D-I
3. A-II, B-III, C-IV, D-I
4. A-I, B-III, C-II, D-IV

Options :

63238621641. 1

63238621642. 2

63238621643. 3

63238621644. 4

**Question Number : 86 Question Id : 6323865411 Question Type : MCQ Option Shuffling : No Is
Question Mandatory : No Calculator : None Response Time : N.A Think Time : N.A Minimum
Instruction Time : 0**

Correct Marks : 5 Wrong Marks : 1

सूची I के साथ सूची II का मिलान कीजिए

सूची I (वैज्ञानिक)		सूची II (खोजें)	
A.	हरगोबिन्द खुराना	I.	शून्य की खोज
B.	सी.वी.रमन	II.	कोशिका की आनुवांशिक रचना
C.	जगदीश चन्द्र बोस	III.	प्रकाश का बिखरना
D.	आर्यभट्ट	IV.	पादप वृद्धि का मापन

नीचे दिए गए विकल्पों में से सही उत्तर का चयन कीजिए:

1. A-II, B-III, C-I, D-IV
2. A-III, B-II, C-IV, D-I
3. A-II, B-III, C-IV, D-I
4. A-I, B-III, C-II, D-IV

Options :

63238621641. 1
63238621642. 2
63238621643. 3
63238621644. 4

Question Number : 87 Question Id : 6323865412 Question Type : MCQ Option Shuffling : No Is Question Mandatory : No Calculator : None Response Time : N.A Think Time : N.A Minimum Instruction Time : 0

Correct Marks : 5 Wrong Marks : 1

Who won the 'Noble Prize' for in the field of "physiology or medicine"?

1. C.V. Raman
2. Jagdish Chandra Bose
3. Homi Jehangir Bhabha
4. Har Gobind Khorana

Options :

63238621645. 1

63238621646. 2

63238621647. 3

63238621648. 4

Question Number : 87 Question Id : 6323865412 Question Type : MCQ Option Shuffling : No Is Question Mandatory : No Calculator : None Response Time : N.A Think Time : N.A Minimum Instruction Time : 0

Correct Marks : 5 Wrong Marks : 1

फिजियोलॉजी और मेडिसिन के क्षेत्र में नोबेल पुरस्कार किसने प्राप्त किया :

1. सी.वी. रमन
2. जगदीश चन्द्र बोस
3. होमी जहांगीर भाबा
4. हरगोबिन्द खुराना

Options :

63238621645. 1

63238621646. 2

63238621647. 3

63238621648. 4

Question Number : 88 Question Id : 6323865413 Question Type : MCQ Option Shuffling : No Is Question Mandatory : No Calculator : None Response Time : N.A Think Time : N.A Minimum Instruction Time : 0

Correct Marks : 5 Wrong Marks : 1

Which of the following is not the satellite launched by India?

1. Explorer
2. APPLE
3. Bhaskar
4. INSAT

Options :

63238621649. 1

63238621650. 2

63238621651. 3

63238621652. 4

Question Number : 88 Question Id : 6323865413 Question Type : MCQ Option Shuffling : No Is

Question Mandatory : No Calculator : None Response Time : N.A Think Time : N.A Minimum

Instruction Time : 0

Correct Marks : 5 Wrong Marks : 1

निम्न में से कौन सा उपग्रह भारत द्वारा छोड़ा हुआ नहीं है :

1. एक्सप्लोर

2. APPLE (एपल)

3. भास्कर

4. इनसैट INSAT

Options :

63238621649. 1

63238621650. 2

63238621651. 3

63238621652. 4

Question Number : 89 Question Id : 6323865414 Question Type : MCQ Option Shuffling : No Is

Question Mandatory : No Calculator : None Response Time : N.A Think Time : N.A Minimum

Instruction Time : 0

Correct Marks : 5 Wrong Marks : 1

Match List I with List II

LIST I Movement		LIST II Purpose	
A.	Quit India Movement	I.	To achieve self Government in India of demand for large political representation
B.	Civil Disobedience Movement	II.	Compelled British's to leave India
C.	Non Cooperation Movement	III.	Refusal to obey certain laws orders or Commands of the Government
D.	Home rule league Movement	IV.	Indians resigning their title boycotting foreign goods and Government institutions refused to pay taxes

Choose the most appropriate answer from the options given below:

1. A-I, B-III, C-II, D-IV
2. A-II, B-III, C-I, D-IV
3. A-III, B-II, C-IV, D-I
4. A-II, B-III, C-IV, D-I

Options :

63238621653. 1

63238621654. 2

63238621655. 3

63238621656. 4

Question Number : 89 Question Id : 6323865414 Question Type : MCQ Option Shuffling : No Is Question Mandatory : No Calculator : None Response Time : N.A Think Time : N.A Minimum Instruction Time : 0

Correct Marks : 5 Wrong Marks : 1

सूची I के साथ सूची II का मिलान कीजिए

सूची I (आंदोलन)		सूची II (उद्देश्य)	
A.	भारत छोड़ो आंदोलन	I.	भारत में स्व-शासन लागू करना तथा स्तरीकृत राजनैतिक प्रदर्शन की माँग
B.	सविनय अवज्ञा आंदोलन	II.	अंग्रेजों को भारत छोड़ने के लिए मजबूर किया
C.	असहयोग आंदोलन	III.	सरकार के कुछ कानूनों, आज्ञाओं व आदेशों को मानने से मना करना
D.	स्वशासन राज्य संघ आंदोलन	IV.	भारतीयों द्वारा अपनी उपाधियों, त्यागपत्र देना, विदेशी वस्तुओं तथा सरकारी संस्थानों का बहिष्कार कर भरने के लिए मना करना

नीचे दिए गए विकल्पों में से सही उत्तर का चयन कीजिए:

1. A-I, B-III, C-II, D-IV
2. A-II, B-III, C-I, D-IV
3. A-III, B-II, C-IV, D-I
4. A-II, B-III, C-IV, D-I

Options :

63238621653. 1
63238621654. 2
63238621655. 3
63238621656. 4

Question Number : 90 Question Id : 6323865415 Question Type : MCQ Option Shuffling : No Is

Question Mandatory : No Calculator : None Response Time : N.A Think Time : N.A Minimum

Instruction Time : 0

Correct Marks : 5 Wrong Marks : 1

Bhoodan-Gram Dan Movement was initiated by.

1. Mahatma Gandhi
2. Vinoba Bhave
3. Shri Ram Chandra Reddy
4. Sardar Patel

Options :

63238621657. 1

63238621658. 2

63238621659. 3

63238621660. 4

Question Number : 90 Question Id : 6323865415 Question Type : MCQ Option Shuffling : No Is Question Mandatory : No Calculator : None Response Time : N.A Think Time : N.A Minimum Instruction Time : 0

Correct Marks : 5 Wrong Marks : 1

भूदान-ग्राम दान आंदोलन को किसने प्रारम्भ किया :

1. महात्मा गाँधी
2. विनोबा भावे
3. श्री रामचन्द्र रेड्डी
4. सरदार पटेल

Options :

63238621657. 1

63238621658. 2

63238621659. 3

63238621660. 4

Question Number : 91 Question Id : 6323865416 Question Type : MCQ Option Shuffling : No Is Question Mandatory : No Calculator : None Response Time : N.A Think Time : N.A Minimum

Instruction Time : 0

Correct Marks : 5 Wrong Marks : 1

Major is related to Lieutenant in the same way as 'Squadron Leader' is Related to _____?

1. Pilot officer
2. Flying Attendant
3. Group captain
4. Flying officer

Options :

- 63238621661. 1
- 63238621662. 2
- 63238621663. 3
- 63238621664. 4

Question Number : 91 Question Id : 6323865416 Question Type : MCQ Option Shuffling : No Is Question Mandatory : No Calculator : None Response Time : N.A Think Time : N.A Minimum Instruction Time : 0

Correct Marks : 5 Wrong Marks : 1

मेजर लैफ्टीनेंट से उसी तरह संबंधित है जैसे 'स्कवैड्रन लीडर' _____ से संबंधित है।

1. पायलट ऑफिसर
2. फ्लाईंग परिचारी
3. समूह का कप्तान
4. फ्लाईंग ऑफिसर

Options :

- 63238621661. 1
- 63238621662. 2
- 63238621663. 3
- 63238621664. 4

Question Number : 92 Question Id : 6323865417 Question Type : MCQ Option Shuffling : No Is Question Mandatory : No Calculator : None Response Time : N.A Think Time : N.A Minimum Instruction Time : 0

Correct Marks : 5 Wrong Marks : 1

Find out which of the figures out of given option can be formed from the pieces given in fig (X)

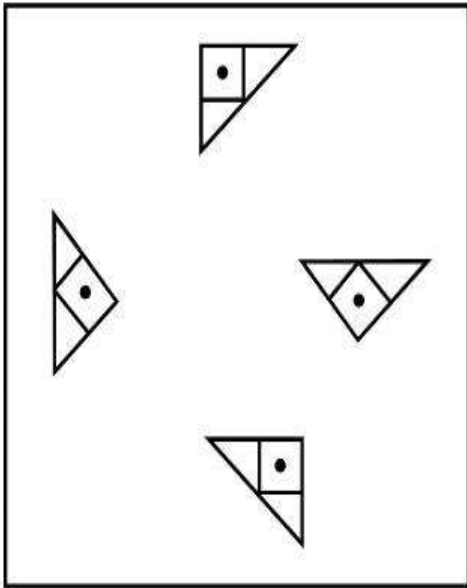
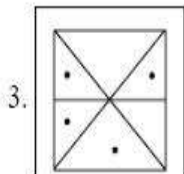
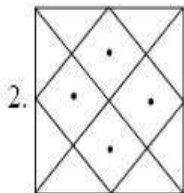
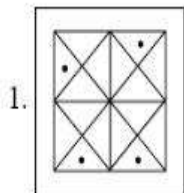


Fig X



Options :

63238621665. 1

63238621666. 2

63238621667. 3

Question Number : 92 Question Id : 6323865417 Question Type : MCQ Option Shuffling : No Is Question Mandatory : No Calculator : None Response Time : N.A Think Time : N.A Minimum Instruction Time : 0

Correct Marks : 5 Wrong Marks : 1

चित्र (x) में दिए टुकड़ों से नीचे दिए गए विकल्पों में से कौन से चित्र को बनाया जा सकता है?

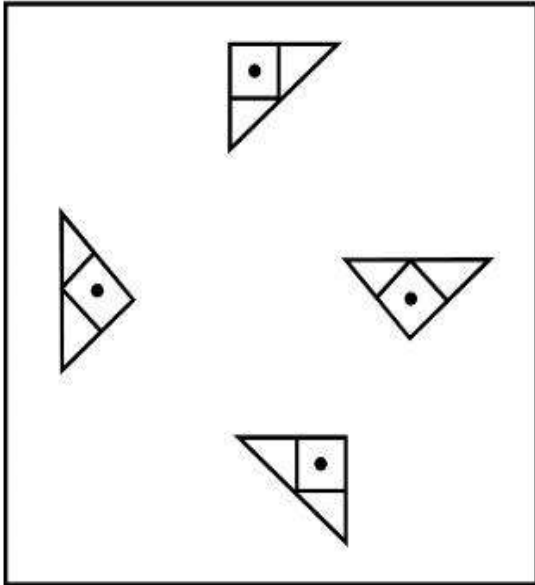
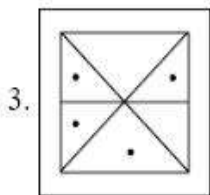
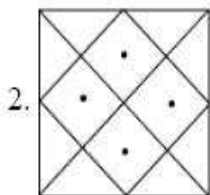
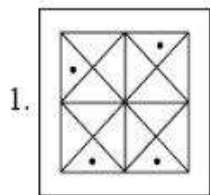


Fig X



Options :

63238621666. 2

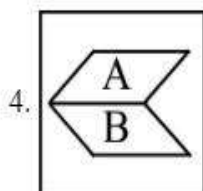
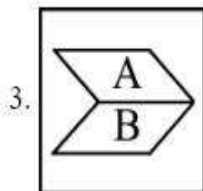
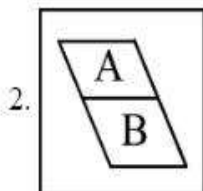
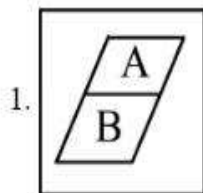
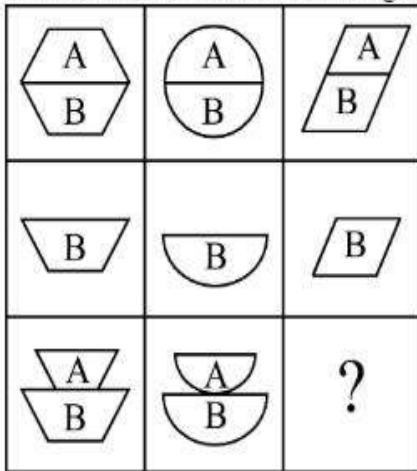
63238621667. 3

63238621668. 4

Question Number : 93 Question Id : 6323865418 Question Type : MCQ Option Shuffling : No Is Question Mandatory : No Calculator : None Response Time : N.A Think Time : N.A Minimum Instruction Time : 0

Correct Marks : 5 Wrong Marks : 1

Find out which of the answer figures (1), (2), (3) and (4) completed the figure matrix?



Options :

63238621669. 1

63238621670. 2

63238621671. 3

63238621672. 4

Question Number : 93 Question Id : 6323865418 Question Type : MCQ Option Shuffling : No Is

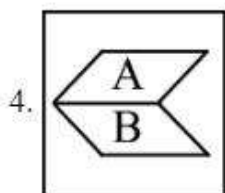
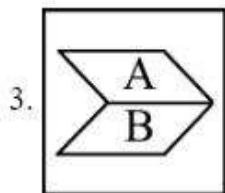
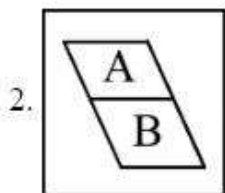
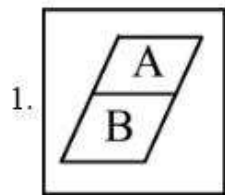
Question Mandatory : No Calculator : None Response Time : N.A Think Time : N.A Minimum

Instruction Time : 0

Correct Marks : 5 Wrong Marks : 1

निम्न में से कौन से विकल्पों के चित्र (1), (2), (3) तथा (4) के आव्यूह को पूर्ण करते हैं :

		?



Options :

63238621669. 1

63238621670. 2

63238621671. 3

63238621672. 4

Instruction Time : 0

Correct Marks : 5 Wrong Marks : 1

If today is Saturday then what will be the day on 363rd day?

1. Sunday
2. Monday
3. Thursday
4. Friday

Options :

63238621673. 1
63238621674. 2
63238621675. 3
63238621676. 4

**Question Number : 94 Question Id : 6323865419 Question Type : MCQ Option Shuffling : No Is
Question Mandatory : No Calculator : None Response Time : N.A Think Time : N.A Minimum
Instruction Time : 0**

Correct Marks : 5 Wrong Marks : 1

यदि आज शनिवार है, तो 363 वें दिन, कौन सा वार होगा :

1. रविवार
2. सोमवार
3. बृहस्पतिवार
4. शुक्रवार

Options :

63238621673. 1
63238621674. 2
63238621675. 3
63238621676. 4

Question Number : 95 Question Id : 6323865420 Question Type : MCQ Option Shuffling : No Is Question Mandatory : No Calculator : None Response Time : N.A Think Time : N.A Minimum Instruction Time : 0

Correct Marks : 5 Wrong Marks : 1

A is 3 years younger than C but one year older than D. D is one year older than B but 4 years younger than C. C is 15 years old. What is the age of B in years

1. 13

2. 12

3. 11

4. 10

Options :

63238621677. 1

63238621678. 2

63238621679. 3

63238621680. 4

Question Number : 95 Question Id : 6323865420 Question Type : MCQ Option Shuffling : No Is Question Mandatory : No Calculator : None Response Time : N.A Think Time : N.A Minimum Instruction Time : 0

Correct Marks : 5 Wrong Marks : 1

A, C से 3 वर्ष छोटा है, किन्तु D से एक वर्ष बड़ा है। D, B से एक वर्ष बड़ा है किन्तु C से 4 वर्ष छोटा है। C की आयु 15 वर्ष है। B कितने वर्ष का है?

1. 13

2. 12

3. 11

4. 10

Options :

63238621677. 1

63238621678. 2

63238621679. 3

63238621680. 4

Question Number : 96 Question Id : 6323865421 Question Type : MCQ Option Shuffling : No Is Question Mandatory : No Calculator : None Response Time : N.A Think Time : N.A Minimum Instruction Time : 0

Correct Marks : 5 Wrong Marks : 1

When seen through a mirror, a clock shows 3:30.what is the correct time .

1. 2:30

2. 8:30

3. 5:30

4. 4:30

Options :

63238621681. 1

63238621682. 2

63238621683. 3

63238621684. 4

Question Number : 96 Question Id : 6323865421 Question Type : MCQ Option Shuffling : No Is Question Mandatory : No Calculator : None Response Time : N.A Think Time : N.A Minimum Instruction Time : 0

Correct Marks : 5 Wrong Marks : 1

दर्पण में देखने पर एक घड़ी 3:30 (3 घंटे तथा 30 मिनट) का समय दर्शाती है। सही समय क्या है?

1. 2:30

2. 8:30

3. 5:30

4. 4:30

Options :

63238621681. 1

63238621682. 2

63238621683. 3

63238621684. 4

Question Number : 97 Question Id : 6323865422 Question Type : MCQ Option Shuffling : No Is Question Mandatory : No Calculator : None Response Time : N.A Think Time : N.A Minimum Instruction Time : 0

Correct Marks : 5 Wrong Marks : 1

Find the angle traced by hour hand of a correct clock between 7 pm 0' clock and 2 am 0' clock.

1. 200°

2. 210°

3. 310°

4. 290°

Options :

63238621685. 1

63238621686. 2

63238621687. 3

63238621688. 4

Question Number : 97 Question Id : 6323865422 Question Type : MCQ Option Shuffling : No Is Question Mandatory : No Calculator : None Response Time : N.A Think Time : N.A Minimum Instruction Time : 0

Correct Marks : 5 Wrong Marks : 1

7pm बजे से 2am बजे तक किसी घंटे की सुई कितने डिग्री कोण को प्रस्तुत करेगी :

1. 200°
2. 210°
3. 310°
4. 290°

Options :

63238621685. 1
63238621686. 2
63238621687. 3
63238621688. 4

Question Number : 98 Question Id : 6323865423 Question Type : MCQ Option Shuffling : No Is Question Mandatory : No Calculator : None Response Time : N.A Think Time : N.A Minimum Instruction Time : 0

Correct Marks : 5 Wrong Marks : 1

If the word 'LEADER' is coded as 20-13-9-12-13-26. How would you write "LIGHT"

1. 20-16-15-17-22
2. 20-17-15-16-28
3. 20-15-16-18-23
4. 20-16-17-15-27

Options :

63238621689. 1
63238621690. 2
63238621691. 3
63238621692. 4

Question Number : 98 Question Id : 6323865423 Question Type : MCQ Option Shuffling : No Is Question Mandatory : No Calculator : None Response Time : N.A Think Time : N.A Minimum

Instruction Time : 0

Correct Marks : 5 Wrong Marks : 1

यदि शब्द 'LEADER' को गुप्त भाषा में 20-13-9-12-13-26 लिखा जाता है तो "LIGHT" शब्द को कैसे लिखा जाएगा?

1. 20-16-15-17-22

2. 20-17-15-16-28

3. 20-15-16-18-23

4. 20-16-17-15-27

Options :

63238621689. 1

63238621690. 2

63238621691. 3

63238621692. 4

Question Number : 99 Question Id : 6323865424 Question Type : MCQ Option Shuffling : No Is Question Mandatory : No Calculator : None Response Time : N.A Think Time : N.A Minimum Instruction Time : 0

Correct Marks : 5 Wrong Marks : 1

If the 2nd half of the letters of the word INTERMEDIATE are reversed and placed before 1st half of the letters, which letter will be 2nd to the right of 10th letter from the right?

1. A

2. D

3. E

4. I

Options :

63238621693. 1

63238621694. 2

63238621695. 3

63238621696. 4

Question Number : 99 Question Id : 6323865424 Question Type : MCQ Option Shuffling : No Is Question Mandatory : No Calculator : None Response Time : N.A Think Time : N.A Minimum Instruction Time : 0

Correct Marks : 5 Wrong Marks : 1

यदि शब्द INTERMEDIATE के पीछे के प्रथम आधे वर्णों को उलटा कर पहले लिख दिया जाए, तो दाईं तरफ से दसवें वर्ण के दाईं तरफ का दूसरा वर्ण क्या होगा :

1. A
2. D
3. E
4. I

Options :

63238621693. 1
63238621694. 2
63238621695. 3
63238621696. 4

Question Number : 100 Question Id : 6323865425 Question Type : MCQ Option Shuffling : No Is Question Mandatory : No Calculator : None Response Time : N.A Think Time : N.A Minimum Instruction Time : 0

Correct Marks : 5 Wrong Marks : 1

Here are some words translated from an artificial language

Holo polo means base ball

Moto prot means my India

Prot shot means India won

Which word could be mean "All India Radio"

1. Holo polo prot
2. Kud prot nid
3. Prot polo nid
4. Polo nid prot

Options :

- 63238621697. 1
- 63238621698. 2
- 63238621699. 3
- 63238621700. 4

Question Number : 100 Question Id : 6323865425 Question Type : MCQ Option Shuffling : No

Is Question Mandatory : No Calculator : None Response Time : N.A Think Time : N.A

Minimum Instruction Time : 0

Correct Marks : 5 Wrong Marks : 1

यदि शब्द INTERMEDIATE के पीछे के प्रथम आधे वर्णों को उलटा कर पहले लिख दिया जाए, तो दाईं तरफ से दसवें वर्ण के दाईं तरफ का दूसरा वर्ण क्या होगा :

- 1. A
- 2. D
- 3. E
- 4. I

Options :

- 63238621697. 1
- 63238621698. 2
- 63238621699. 3
- 63238621700. 4

Question Number : 101 Question Id : 6323865426 Question Type : MCQ Option Shuffling : No

Is Question Mandatory : No Calculator : None Response Time : N.A Think Time : N.A

Minimum Instruction Time : 0

Correct Marks : 5 Wrong Marks : 1

A man walks 2 km towards East and then he turns to South and walks 6 km. Again he turns to East and walks 4 km, after this he turns to North and walk 14 km. How far is he from his starting point?

1. 10 km
2. 15 km
3. 20 km
4. 25 km

Options :

63238621701. 1
63238621702. 2
63238621703. 3
63238621704. 4

Question Number : 101 Question Id : 6323865426 Question Type : MCQ Option Shuffling : No

Is Question Mandatory : No Calculator : None Response Time : N.A Think Time : N.A

Minimum Instruction Time : 0

Correct Marks : 5 Wrong Marks : 1

एक आदमी पूरब की तरफ 2km चलता है, फिर वो दक्षिण की तरफ मुड़कर 6km, चलता है। वह फिर से पूरब की तरफ मुड़कर 4km चलता है। फिर वह उत्तर की तरफ मुड़कर 14km चलता है। वह प्रारम्भिक बिन्दु से कितनी दूर है :

1. 10km
2. 15km
3. 20km
4. 25km

Options :

63238621701. 1
63238621702. 2
63238621703. 3
63238621704. 4

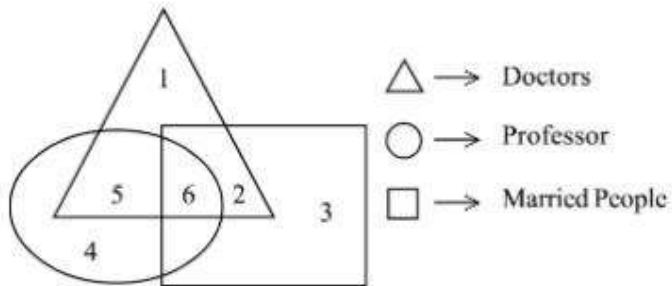
Question Number : 102 Question Id : 6323865427 Question Type : MCQ Option Shuffling : No

Is Question Mandatory : No Calculator : None Response Time : N.A Think Time : N.A

Minimum Instruction Time : 0

Correct Marks : 5 Wrong Marks : 1

In figure out which Number indicate doctors who are not married



1. 2

2. 4

3. 1

4. 6

Options :

63238621705. 1

63238621706. 2

63238621707. 3

63238621708. 4

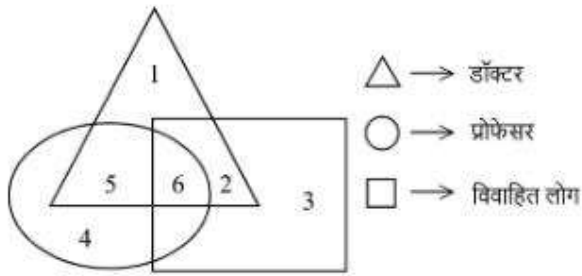
Question Number : 102 Question Id : 6323865427 Question Type : MCQ Option Shuffling : No

Is Question Mandatory : No Calculator : None Response Time : N.A Think Time : N.A

Minimum Instruction Time : 0

Correct Marks : 5 Wrong Marks : 1

नीचे दिए गए चित्र में कौन सी संख्या अविवाहित डॉक्टरों की संख्या की सूचक है :



1. 2

2. 4

3. 1

4. 6

Options :

63238621705. 1

63238621706. 2

63238621707. 3

63238621708. 4

Question Number : 103 Question Id : 6323865428 Question Type : MCQ Option Shuffling : No

Is Question Mandatory : No Calculator : None Response Time : N.A Think Time : N.A

Minimum Instruction Time : 0

Correct Marks : 5 Wrong Marks : 1

The minimum number of colours to required paint all sides of a cube that no two adjacent faces may have the same colour is.

1. 5

2. 4

3. 3

4. 6

Options :

63238621709. 1

63238621710. 2

63238621711. 3

63238621712. 4

Question Number : 103 Question Id : 6323865428 Question Type : MCQ Option Shuffling : No

Is Question Mandatory : No Calculator : None Response Time : N.A Think Time : N.A

Minimum Instruction Time : 0

Correct Marks : 5 Wrong Marks : 1

किसी घन को सभी तरफ से पेंट करने के लिए सबसे कम कितने रंगों की संख्या की आवश्यकता होगी जिससे कोई भी दो सन्निकट तलों (सतहों) पर एक ही रंग न हो सके :

1. 5

2. 4

3. 3

4. 6

Options :

63238621709. 1

63238621710. 2

63238621711. 3

63238621712. 4

Question Number : 104 Question Id : 6323865429 Question Type : MCQ Option Shuffling : No

Is Question Mandatory : No Calculator : None Response Time : N.A Think Time : N.A

Minimum Instruction Time : 0

Correct Marks : 5 Wrong Marks : 1

Arrange the following in meaningful sequence:

- A. Key
- B. Door
- C. Lock
- D. Room

Choose the most appropriate answer from the options given below:

- 1. A, C, B, D
- 2. D, C, A, B
- 3. B, A, D, C
- 4. C, B, D, A

Options :

63238621713. 1

63238621714. 2

63238621715. 3

63238621716. 4

Question Number : 104 Question Id : 6323865429 Question Type : MCQ Option Shuffling : No

Is Question Mandatory : No Calculator : None Response Time : N.A Think Time : N.A

Minimum Instruction Time : 0

Correct Marks : 5 Wrong Marks : 1

निम्नलिखित को एक अर्थपूर्ण क्रम में व्यवस्थित करें :

- A. कुंजी
- B. दरवाजा
- C. ताला
- D. कमरा

नीचे दिए गए विकल्पों में से सबसे उपयुक्त उत्तर का चयन करें :

- 1. A, C, B, D
- 2. D, C, A, B
- 3. B, A, D, C
- 4. C, B, D, A

Options :

63238621713. 1

63238621714. 2

63238621715. 3

63238621716. 4

Question Number : 105 Question Id : 6323865430 Question Type : MCQ Option Shuffling : No

Is Question Mandatory : No Calculator : None Response Time : N.A Think Time : N.A

Minimum Instruction Time : 0

Correct Marks : 5 Wrong Marks : 1

Choose the one which is different from the rest three.

- 1. 431
- 2. 162
- 3. 831
- 4. 232

Options :

63238621717. 1

63238621718. 2

63238621719. 3

63238621720. 4

Question Number : 105 Question Id : 6323865430 Question Type : MCQ Option Shuffling : No

Is Question Mandatory : No Calculator : None Response Time : N.A Think Time : N.A

Minimum Instruction Time : 0

Correct Marks : 5 Wrong Marks : 1

शेष तीनों से भिन्न संख्या को चुनें।

1. 431

2. 162

3. 831

4. 232

Options :

63238621717. 1

63238621718. 2

63238621719. 3

63238621720. 4

Question Number : 106 Question Id : 6323865431 Question Type : MCQ Option Shuffling : No

Is Question Mandatory : No Calculator : None Response Time : N.A Think Time : N.A

Minimum Instruction Time : 0

Correct Marks : 5 Wrong Marks : 1

Find the next term in the alpha-numeric series D4T, F9R, H20P, J43N.

1. L 90 M

2. N 90 N

3. L 90 L

4. J 90 L

Options :

63238621721. 1

63238621722. 2

63238621723. 3

63238621724. 4

Question Number : 106 Question Id : 6323865431 Question Type : MCQ Option Shuffling : No

Is Question Mandatory : No Calculator : None Response Time : N.A Think Time : N.A

Minimum Instruction Time : 0

Correct Marks : 5 Wrong Marks : 1

एल्फा न्यूमेरिक श्रंखला में अगला पद क्या होगा :
D4T, F9R, H20P, J43N.

1. L 90 M

2. N 90 N

3. L 90 L

4. J 90 L

Options :

63238621721. 1

63238621722. 2

63238621723. 3

63238621724. 4

Question Number : 107 Question Id : 6323865432 Question Type : MCQ Option Shuffling : No

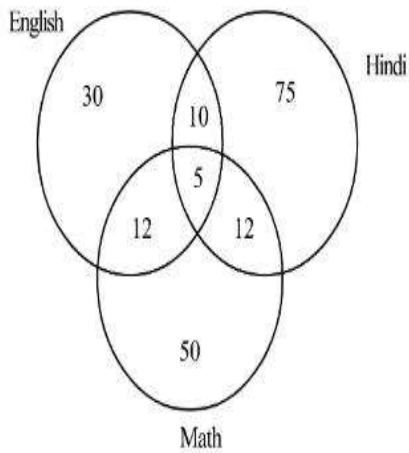
Is Question Mandatory : No Calculator : None Response Time : N.A Think Time : N.A

Minimum Instruction Time : 0

Correct Marks : 5 Wrong Marks : 1

Consider the Diagram.

500 Candidates appeared in an Examination comprising test in English, Hindi and Maths. The Diagram gives number of students who failed in different tests. What is the % percentage of student who failed at least two subjects?



1. 6.8%
2. 7.8%
3. 1.0%
4. 0.078%

Options :

63238621725. 1
63238621726. 2
63238621727. 3
63238621728. 4

Question Number : 107 Question Id : 6323865432 Question Type : MCQ Option Shuffling : No

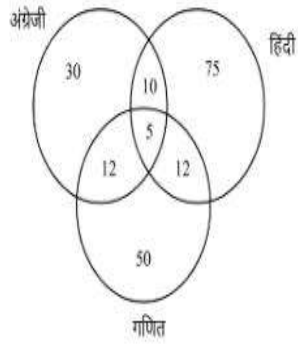
Is Question Mandatory : No Calculator : None Response Time : N.A Think Time : N.A

Minimum Instruction Time : 0

Correct Marks : 5 Wrong Marks : 1

दिए गए चित्र को देखें।

500 अभ्यर्थियों ने अंग्रेजी, हिन्दी तथा गणित की एक परीक्षा दी। चित्र में विभिन्न विषयों में अनुत्तीर्ण होने वाले अभ्यर्थियों की संख्या दर्शाई गई है। उन छात्रों का प्रतिशत बताएँ जो कम से कम दो विषयों में अनुत्तीर्ण हुए हैं।



1. 6.8%
2. 7.8%
3. 1.0%
4. 0.078%

Options :

63238621725. 1

63238621726. 2

63238621727. 3

63238621728. 4

Question Number : 108 Question Id : 6323865433 Question Type : MCQ Option Shuffling : No

Is Question Mandatory : No Calculator : None Response Time : N.A Think Time : N.A

Minimum Instruction Time : 0

Correct Marks : 5 Wrong Marks : 1

In a class boys stand in a single line. One of the boys is seventeenth in order from both the ends. How many boys are in the class?

1. 34
2. 33
3. 32
4. 27

Options :

63238621729. 1

63238621730. 2

63238621731. 3

63238621732. 4

Question Number : 108 Question Id : 6323865433 Question Type : MCQ Option Shuffling : No

Is Question Mandatory : No Calculator : None Response Time : N.A Think Time : N.A

Minimum Instruction Time : 0

Correct Marks : 5 Wrong Marks : 1

एक कक्षा में छात्र एक ही पंक्ति में खड़े होते हैं। एक छात्र दोनों छोरों से 17 वें क्रम पर खड़ा होता है। कक्षा में कितने छात्र हैं :

1. 34

2. 33

3. 32

4. 27

Options :

63238621729. 1

63238621730. 2

63238621731. 3

63238621732. 4

Question Number : 109 Question Id : 6323865434 Question Type : MCQ Option Shuffling : No

Is Question Mandatory : No Calculator : None Response Time : N.A Think Time : N.A

Minimum Instruction Time : 0

Correct Marks : 5 Wrong Marks : 1

In a row of 40 children, A is 13th from the left end and B is ninth from the right end. How many children are there between A and C if C is forth to the left of B.

1. 13
2. 14
3. 15
4. 16

Options :

63238621733. 1
63238621734. 2
63238621735. 3
63238621736. 4

Question Number : 109 Question Id : 6323865434 Question Type : MCQ Option Shuffling : No

Is Question Mandatory : No Calculator : None Response Time : N.A Think Time : N.A

Minimum Instruction Time : 0

Correct Marks : 5 Wrong Marks : 1

40 बच्चों की एक पंक्ति में, A बाएँ ओर से 13 वें स्थान पर है और B दाएँ ओर से नौवें स्थान पर है। A तथा C के बीच में कितने बच्चे हैं यदि C, B के बाएं तरफ चौथे स्थान पर है :

1. 13
2. 14
3. 15
4. 16

Options :

63238621733. 1
63238621734. 2
63238621735. 3
63238621736. 4

Question Number : 110 Question Id : 6323865435 Question Type : MCQ Option Shuffling : No

Is Question Mandatory : No Calculator : None Response Time : N.A Think Time : N.A

Minimum Instruction Time : 0

Correct Marks : 5 Wrong Marks : 1

Statements.

- I. Some cars are black
- II. Some Lions are cars

Conclusion

- I. Some blacks are Lions
- II. No black is Lion

- 1. Only I follow
- 2. Only II follow
- 3. Either I or II follows
- 4. None follows

Options :

63238621737. 1

63238621738. 2

63238621739. 3

63238621740. 4

Question Number : 110 Question Id : 6323865435 Question Type : MCQ Option Shuffling : No

Is Question Mandatory : No Calculator : None Response Time : N.A Think Time : N.A

Minimum Instruction Time : 0

Correct Marks : 5 Wrong Marks : 1

कथन:

I. कुछ कारें काली हैं।

II. कुछ शेर कारें हैं।

निष्कर्ष:

I. कुछ काले शेर हैं।

II. कोई काला शेर नहीं है।

1. केवल I सही है।

2. केवल II सही है।

3. या तो I या II सही है।

4. कोई भी सही नहीं है।

Options :

63238621737. 1

63238621738. 2

63238621739. 3

63238621740. 4